

NOME: \_\_\_\_\_ DATA: \_\_\_\_\_

- 1 Todos os alunos da turma do 1.º ano foram visitar uma quinta pedagógica. No fim da visita registaram num gráfico de pontos as preferências relativas ao animal que cada aluno mais gostou de ver.

## Animais de que os alunos mais gostaram



- Quantos alunos preferiram o veado ou o pónei?

- Quantos alunos há na turma do 1.º ano?

**R.:** Na turma do 1.º ano há \_\_\_\_\_ alunos.

- 2 Pinta de amarelo o número maior e de verde o número menor.

19

52

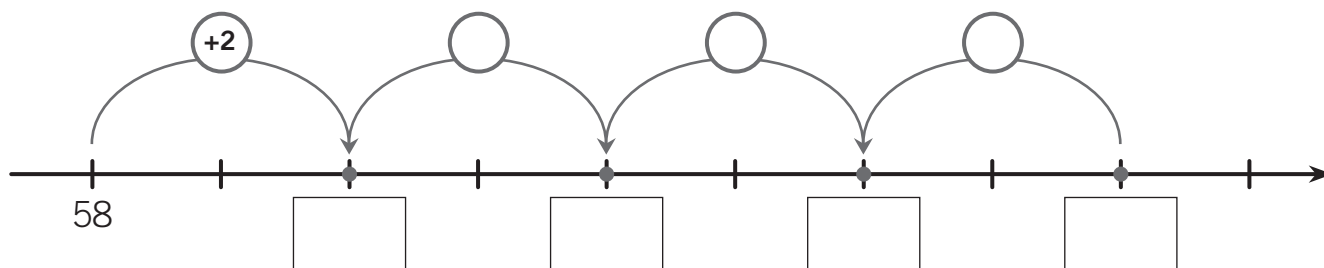
35

81

90

24

3 Completa, preenchendo os espaços em branco.



4 Completa com  $>$ ,  $<$  ou  $=$

65 \_\_\_\_\_ 67 \_\_\_\_\_ 56 \_\_\_\_\_ 75 \_\_\_\_\_ 70 \_\_\_\_\_ 80

5 Completa.

$$\begin{aligned} 28 + 10 &= \_\_\_\_\_ \\ 45 + 30 &= \_\_\_\_\_ \\ 51 + 20 &= \_\_\_\_\_ \end{aligned}$$

$$\begin{aligned} 35 - 30 &= \_\_\_\_\_ \\ 71 - 20 &= \_\_\_\_\_ \\ 41 - 10 &= \_\_\_\_\_ \end{aligned}$$

6 Ordena os dias da semana, começando no domingo.

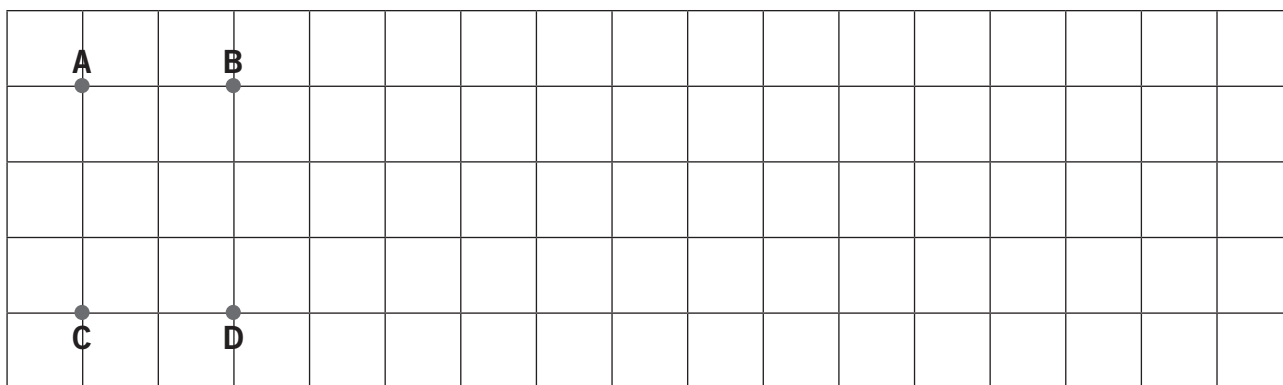
Domingo	Segunda-feira	Sexta-feira	Sábado
1			
Quarta-feira	Terça-feira	Quinta-feira	

• Pinta de azul os dias da semana em que tens aulas.

7 Assinala os sólidos geométricos que só têm superfícies planas.


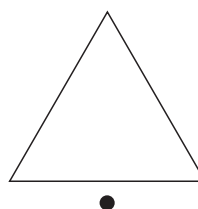




8 Desenha um retângulo de vértices A, B, C e D e pinta-o.




- A área do retângulo é \_\_\_\_\_
- Desenha, na malha quadriculada, um segmento [EF] na posição vertical de comprimento 4  $\square$ .
- Marca um ponto P que pertença ao segmento de reta [EF].

9 Liga as figuras geométricas ao seu nome.



10 A mãe do João comprou os objetos apresentados.



16 €



54 €



23 €

- Qual foi o objeto mais caro? \_\_\_\_\_ .
- Quanto pagou a mãe do João pelos três objetos?

R.: A mãe do João pagou \_\_\_\_\_ euros.

11 A Sónia e a Gina foram apanhar ameixas. A Sónia colheu 15 ameixas e a Gina colheu 9. Quantas ameixas colheu a Sónia a mais do que a Gina?



R.: A Sónia colheu mais \_\_\_\_\_ ameixas do que a Gina.

12 Quanto dinheiro falta ao Simão para poder comprar o jogo?



15 €

R.: Faltam-lhe \_\_\_\_\_ euros para comprar o jogo.