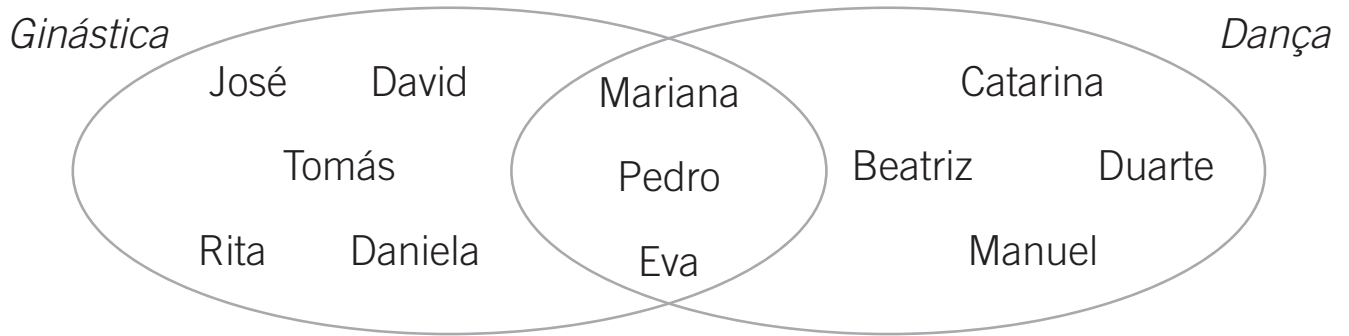


NOME: _____ DATA: _____ - _____ - _____

- 1** A turma do 1.º ano tem 23 alunos e há alunos que frequentam atividades fora da escola.

A professora registou no diagrama seguinte o tipo de atividade que cada um praticava.

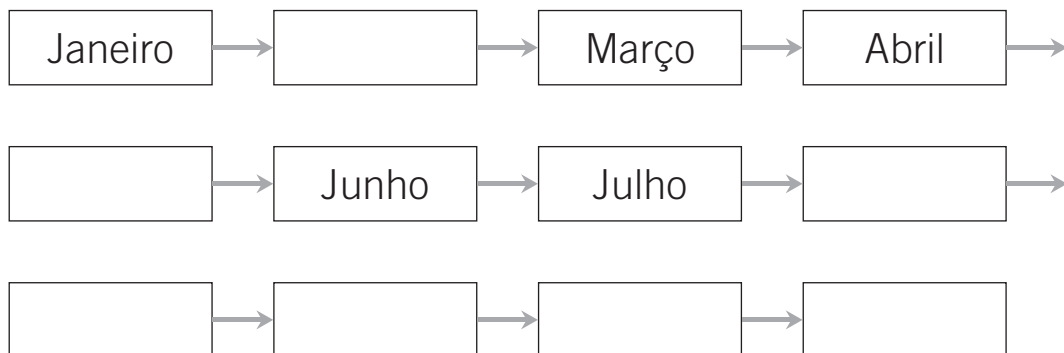


- Indica o número de alunos que pratica:
ginástica. dança.
- Escreve o nome dos alunos que praticam dança e ginástica.

- Quantos alunos da turma do 1.º ano não praticam nenhuma destas atividades?

R.: _____ alunos.

- 2** Escreve o nome dos meses do ano que faltam.



 **3** Completa.


Número	Decomposição	Leitura
61	60 + _____	Sessenta e _____
88	_____ + _____	_____ e _____
_____	40 + 6	_____ e _____
_____	_____ + _____	Cinquenta e dois
95	_____ + _____	_____ e _____

 **4** Completa.

60		66	69						87
----	--	----	----	--	--	--	--	--	----

 **5** Descobre e pinta o número mistério.

O meu algarismo das dezenas é 5 e a soma dos meus algarismos é 7.

 **6** Completa com os símbolos $<$, $>$ e $=$.

52 62

46 + 3 48

41 + 10 45 + 10

39 40 + 10

69 - 10 58

45 - 10 55 - 20



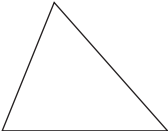

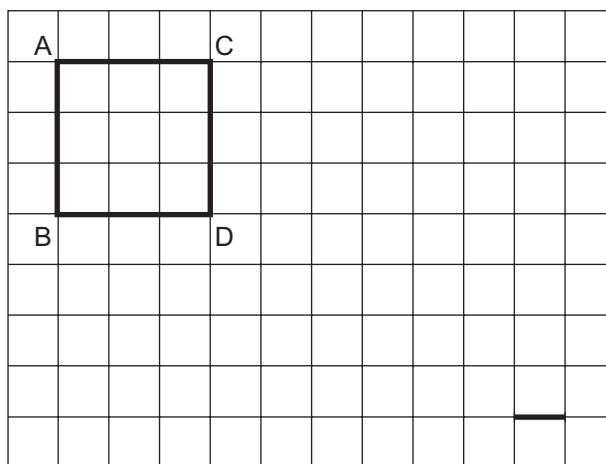

 **7** Regista na tabela o nome da figura, o número de lados e o número de vértices.


Figura geométrica	Nome	Número de lados	Número de vértices
			
			
			

 **8** Observa e responde.



 • Qual a área da figura em \square ? \square

 • Desenha no quadriculado uma figura equivalente, mas com forma diferente.

 • Qual é o comprimento do segmento [AC] em --- ? \square

 • Desenha um segmento [EF] na posição vertical de comprimento 5 --- .

- 9 Observa o dinheiro que o Pedro tem no seu mealheiro e regista o seu valor.



R.: O Pedro tem _____.

- Se o Pedro comprar todos os objetos da imagem, quanto dinheiro lhe sobra?



R.: Sobram-lhe _____.

- 10 O Afonso foi ao cinema, com a sua tia Maria, ver um filme de aventura. Observa um dos bilhetes.



MAIO						
Seg.	Ter.	Qua.	Qui.	Sex.	Sáb.	Dom.
	1	2	3	4	5	6
7	8	9	10	11	12	13
14	15	16	17	18	19	20
21	22	23	24	25	26	27
28	29	30	31			

- Consulta o calendário e diz em que dia da semana foi o Afonso ao cinema.

- A tia do Afonso pagou os dois bilhetes com uma nota de 20 euros. Quanto recebeu de troco?

R.: Recebeu _____.