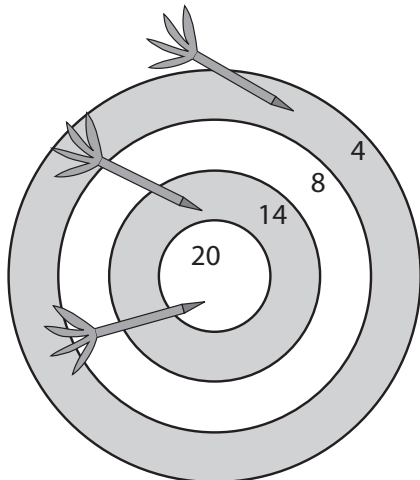
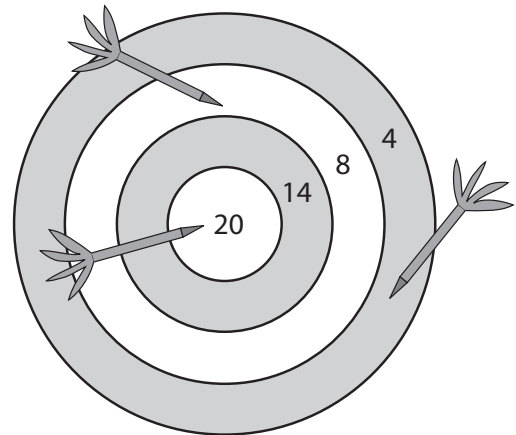


NOME: \_\_\_\_\_ DATA: \_\_\_\_\_

- 1 O Hugo e o David jogam ao jogo dos dardos. Cada um lança 3 dardos e ganha quem obtiver mais pontos.



Hugo



David

- Neste jogo, quantos pontos obteve cada um?

Hugo  +  +  =

David  +  +  =

- Assinala a opção correta.

O Hugo ganhou.

O David ganhou.

Empataram.

- 2 Selecciona dois números de cada linha para preencheres as igualdades.

13     5     8     12

+  =  20

11     12     13     14

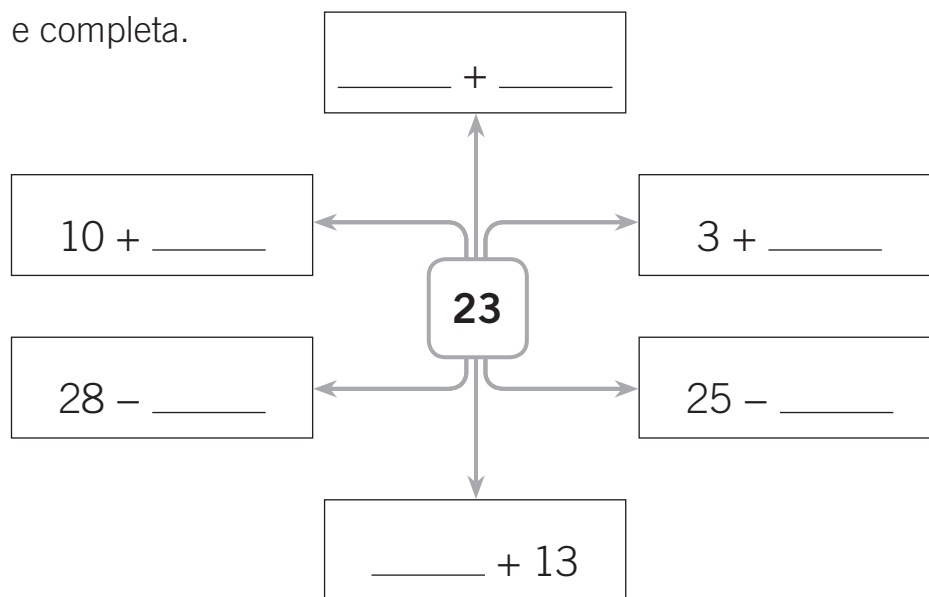
+  =  25

3 Escreve por ordem crescente.

15   
 21   
 27   
 19   
 12   
 9   
 30

\_\_\_\_\_ < \_\_\_\_\_ < \_\_\_\_\_ < \_\_\_\_\_ < \_\_\_\_\_ < \_\_\_\_\_ < \_\_\_\_\_

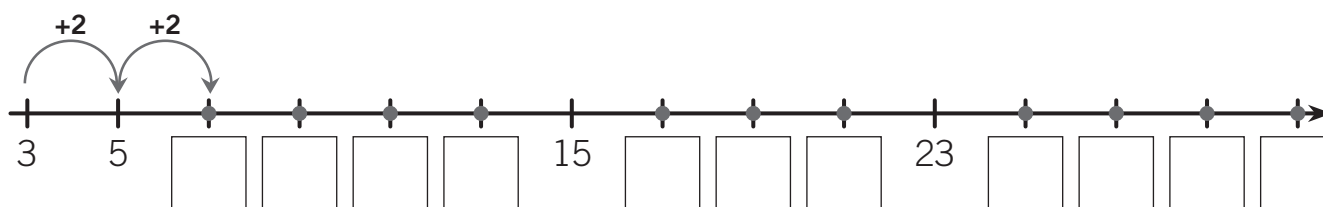
4 Calcula e completa.



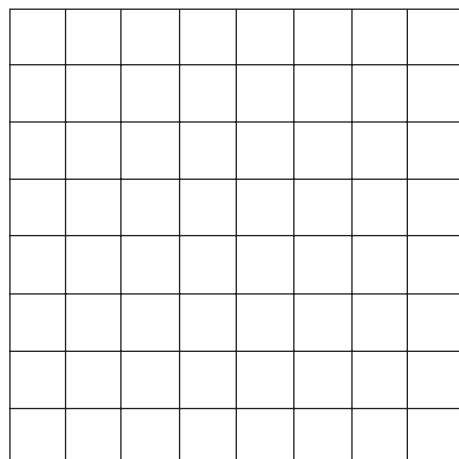
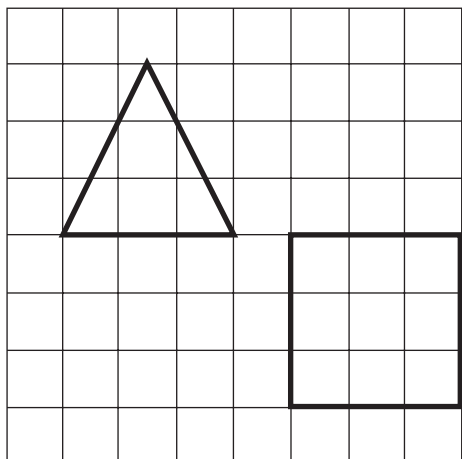
5 Completa.

18	10 + _____	1 dezena e _____ unidades.
23	_____ + _____	_____ dezenas e _____ unidades.
_____	30 + 4	_____ dezenas e _____ unidades.
29	_____ + _____	_____ dezenas e _____ unidades.


6 Completa a sequência na reta numérica.



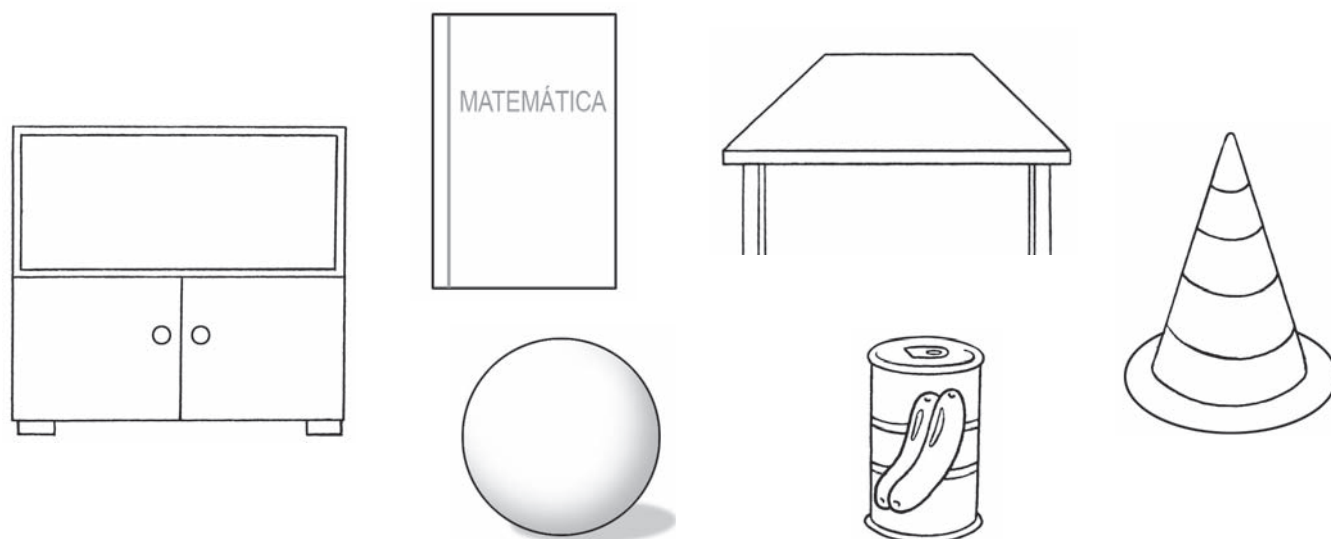
7 Desenha no quadriculado as figuras representadas.



8 Pinta os triângulos de amarelo, os retângulos (que não são quadrados) de azul, os quadrados de verde e os círculos de vermelho.



9 Pinta os objetos que só têm partes planas.



- 10 O Simão levou 23 berlindes para a escola e deu uma dezena de berlindes aos seus amigos. Com quantos berlindes ficou o Simão?




R.: O Simão ficou com \_\_\_\_\_ berlindes.

- 11 A Catarina vai arrumar os seus 25 cromos em envelopes. Se colocar 5 cromos em cada envelope, de quantos envelopes precisa?



R.: Precisa de \_\_\_\_\_ envelopes.

- 12 A Beatriz está a recolher tampas de plástico para reciclar. Já recolheu 18 verdes e 12 azuis. Quantas tampas recolheu a Beatriz?



R.: A Beatriz recolheu \_\_\_\_\_ tampas.