


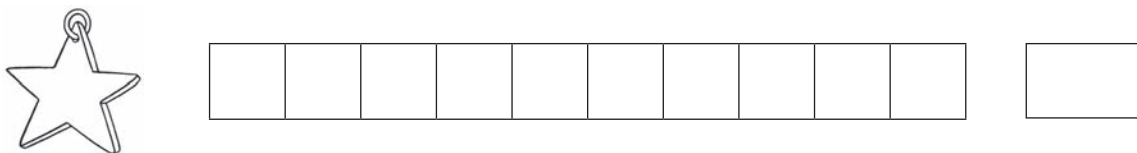
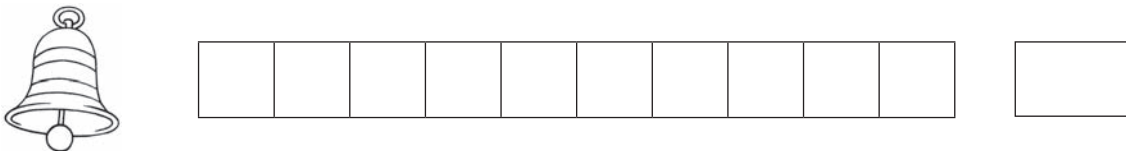
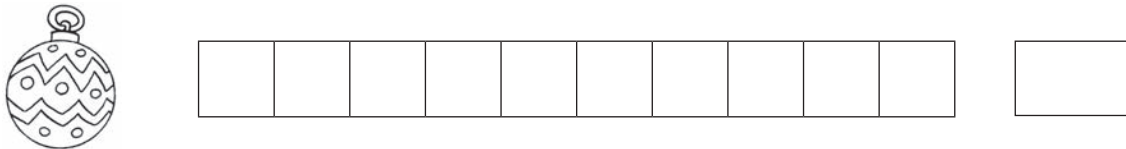
NOME: _____ DATA: _____

1 Observa a imagem.

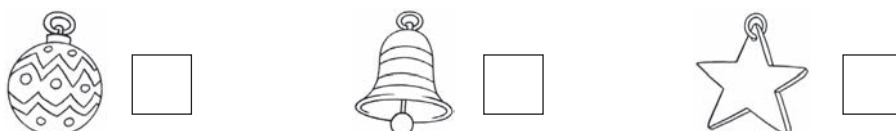
- Pinta de acordo com as cores indicadas.




- Pinta um por cada objeto assinalado e regista o número de quadrados pintados em cada linha.



- Assinala o(s) objeto(s) que existe em **menor** quantidade.



2 Observa e completa.



6

$$\boxed{3} + \boxed{}$$

$$\boxed{} + \boxed{4}$$

$$\boxed{} + \boxed{}$$



7

$$\boxed{5} + \boxed{}$$

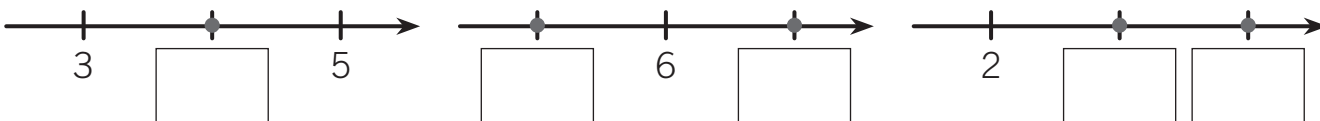
$$\boxed{} + \boxed{4}$$

$$\boxed{3} + \boxed{}$$

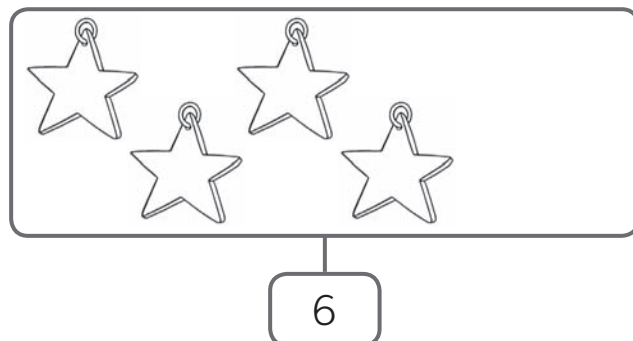
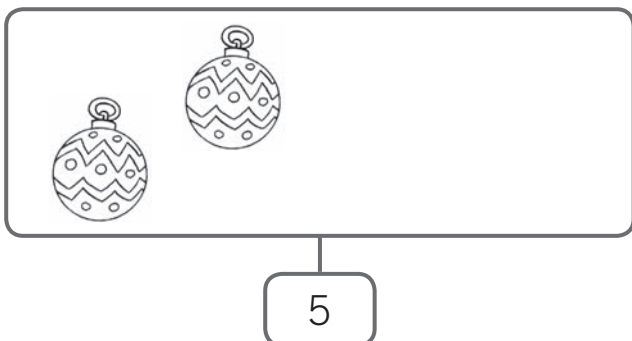
3 Completa com $>$, $<$ ou $=$.

5	_____	3	7	_____	2	4	_____	$3 + 1$
$2 - 1$	_____	4	0	_____	1	6	_____	7

4 Escreve o número que vem antes, entre ou depois do indicado.



5 Em cada conjunto, desenha o número de elementos que faltam.



6 Conta e liga o número às imagens e ao cartão de pontos.



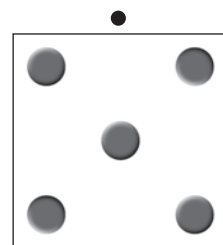

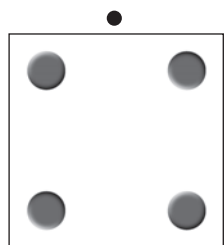
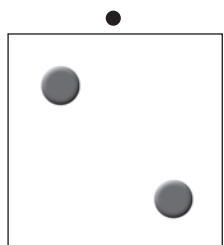
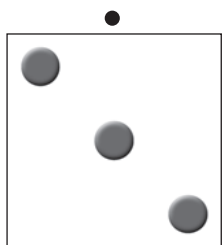
4

3

2

5

0



7 Ordena os números:

3

1

4

0

5

2

• do **menor** para o **maior**.

• do **maior** para o **menor**.

___ < ___ < ___ < ___ < ___ < ___

___ > ___ > ___ > ___ > ___ > ___

8 Pinta da mesma cor os espaços que representam o mesmo número.

$6 - 1$

$2 + 1 + 1$


$4 + 1$

$2 + 2$

$2 + 2 + 1$

$7 - 3$

- 9 A avó do Afonso tem na capoeira 1 galinha, 1 coelho e 1 pato. Quantas patas têm os animais da capoeira?



R.: Os animais da capoeira têm _____ patas.

- 10 A Rita tinha na sua lancheira 7 bolachas e deu duas à sua amiga Lara. Com quantas bolachas ficou a Rita?



R.: A Rita ficou com _____ bolachas.

- 11 Conta o número de bombons de cada caixa e regista.



João



José



- Quantos bombons faltam ao José para ter tantos como o João?