








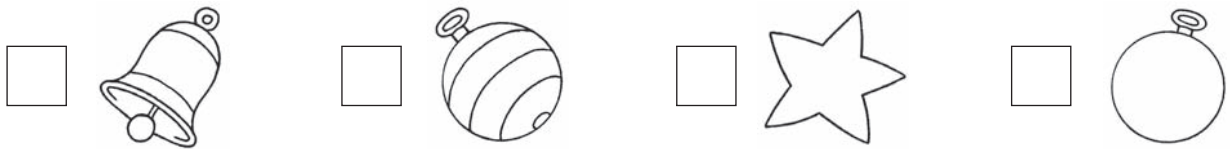
NOME: \_\_\_\_\_ DATA: \_\_\_\_\_ - \_\_\_\_\_ - \_\_\_\_\_

-  **1** Conta o número de objetos que estão a enfeitar a árvore de Natal e regista, na tabela, quantos há de cada forma.

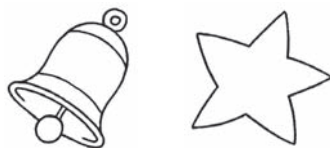


-  • Assinala o objeto que há em maior quantidade. Pinta-o.




-  • Agrupa os objetos e completa.



sinos + estrelas







\_\_\_\_\_ + \_\_\_\_\_ = \_\_\_\_\_



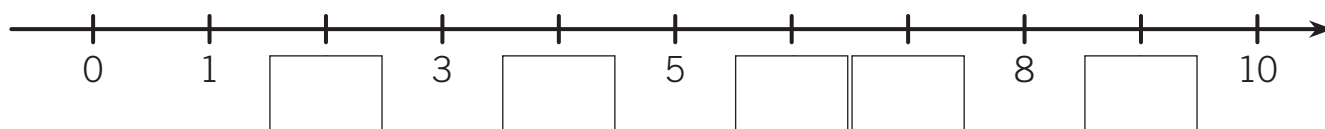
bolas às riscas + bolas lisas


\_\_\_\_\_ + \_\_\_\_\_ = \_\_\_\_\_




 **2** Liga o numeral ao número por extenso e à quantidade.

sete	dois	um	quatro	oito	nove
1	7	2	8	9	4
					

 **3** Completa com os números que faltam na reta.



 **4** Em cada conjunto, conta o número de objetos e assinala com X os elementos que estão a mais.

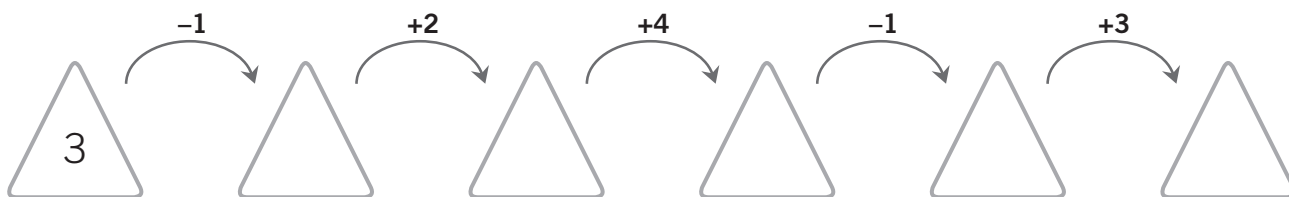
		
8	5	6

 **5** Escreve os números por ordem **decrecente**.



>  >  >  >  >

 **6** Completa.



 **7** Completa com >, < ou =.

$7 \square 5$

$8 \square 6 + 2$

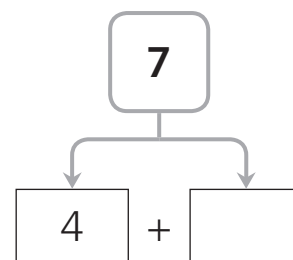
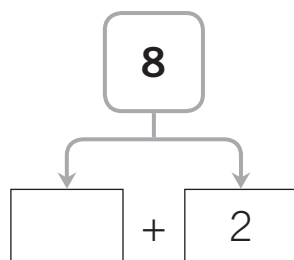
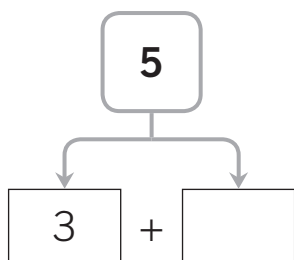
$3 \square 4 - 1$

$3 - 2 \square 4$

$7 \square 9$

$4 + 4 \square 6$

 **8** Completa.



 **9** Completa.

$1 + 3 = \square$

$4 + \square = 8$

$\square + 2 = 9$

$9 - 3 = \square$

$8 - \square = 3$


$\square - 4 = 2$

- 10** O Pedro, a Catarina e a Beatriz fazem coleção de cromos. O Pedro tem 4 cromos, a Catarina 3 e a Beatriz 2.  
Quantos cromos têm as três crianças?




**R.:** As três crianças têm \_\_\_\_\_ cromos.

- 11** Esta é a caixa de chocolates que a Maria recebeu.  
Se ela comer 3 chocolates, quantos chocolates ficam na caixa?



**R.:** Ficam na caixa \_\_\_\_\_ chocolates.

- 12** Observa os frutos que a avó do Tiago tem na fruteira.  
Se o Pedro comer uma maçã e uma banana, quantos frutos ficam na fruteira? Explica como pensaste usando um esquema ou contas.



**R.:** Ficam na fruteira \_\_\_\_\_ frutos.