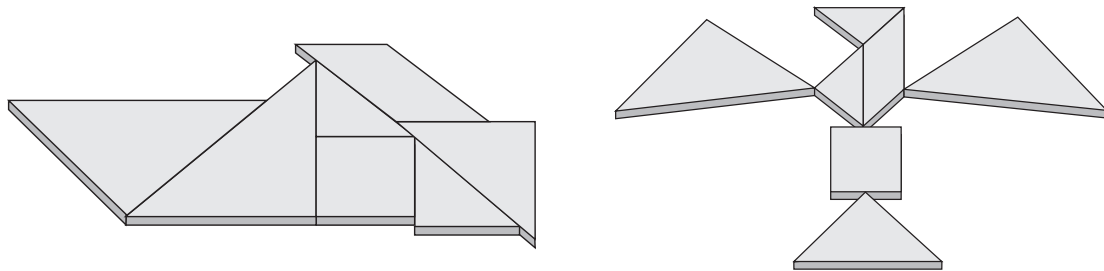


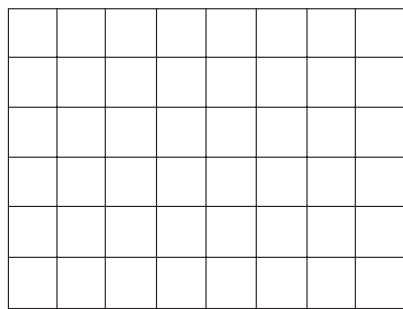
NOME: \_\_\_\_\_ DATA: \_\_\_\_\_

## ÁREA

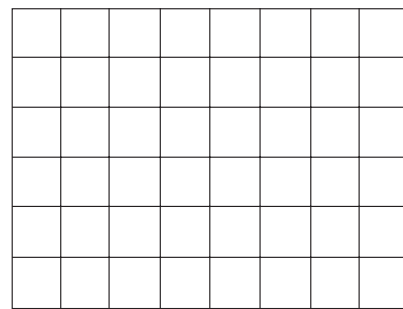
- 1 Utiliza as peças do tangram e constrói as figuras seguintes. Observa que as duas figuras são equivalentes, ou seja, têm a mesma área.



- 2 Desenha no papel quadriculado as figuras indicadas.

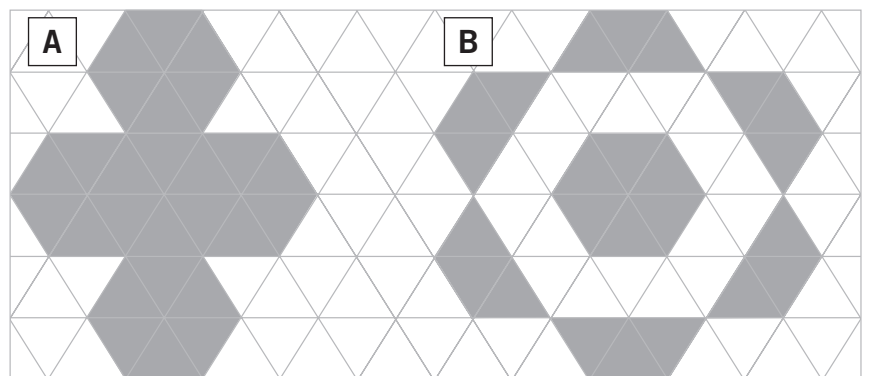


Um retângulo de área 12 .



Um quadrado de lado 4 .

- 3 Observa as figuras e completa.



Área da figura A: \_\_\_\_\_

Área da figura B: \_\_\_\_\_

A área da figura \_\_\_\_\_ é maior do que a da figura \_\_\_\_\_.