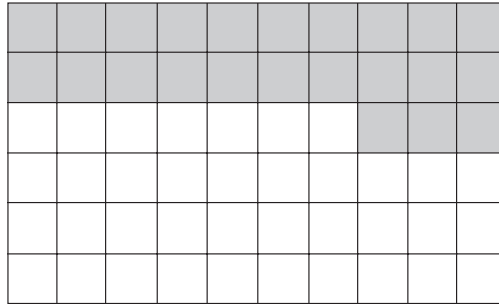


NOME: _____ DATA: _____

ÁREA


- 1 O Sr. José está a pavimentar o chão de uma sala com azulejos quadrangulares azuis. Quantos azulejos ainda lhe faltam colocar?





R.: Ainda lhe faltam colocar _____ azulejos.

- Desenha no chão da sala acima um tapete vermelho com 15 quadrados de área.

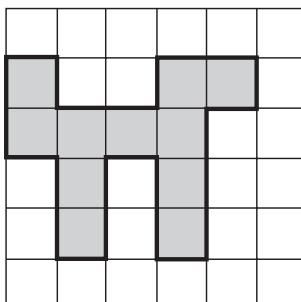
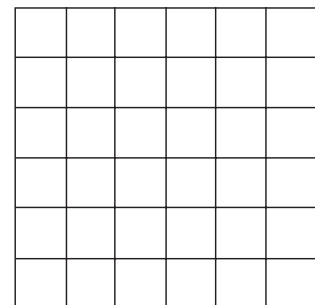
- 2 Calcula a área de cada figura e desenha no quadriculado do lado direito uma figura equivalente.



Área = _____ quadrados.



Área = _____ quadrados.



Área = _____ quadrados.

