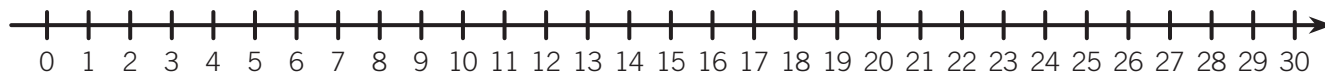


NOME: \_\_\_\_\_ DATA: \_\_\_\_\_

## SUBTRAÇÃO NA RETA NUMÉRICA

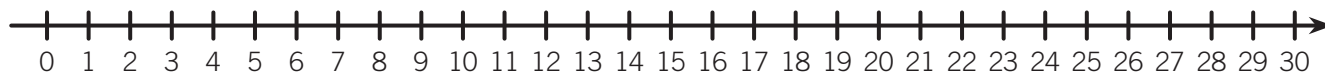
**1** A Dona Elisabete está a fazer a contabilização do material existente na sala do 1.º ano. Usa a reta para efetuare as subtrações.

- Existiam 17 resmas de papel e foram gastas 5.



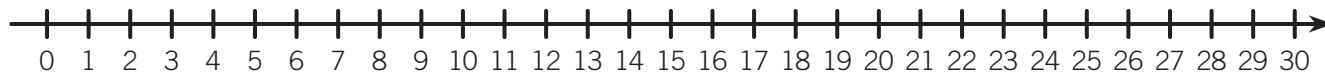
$$17 - 5 = \underline{\quad\quad} \text{ resmas de papel}$$

- Existiam 29 cadernos pautados e foram gastos 8.



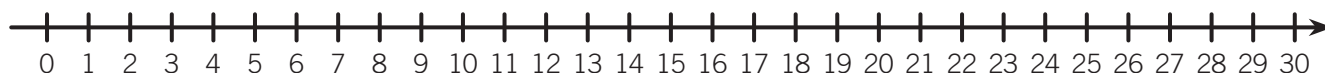
$$29 - 8 = \underline{\quad\quad} \text{ cadernos pautados}$$

- Existiam 24 capas plásticas e foram usadas 10.



$$24 - 10 = \underline{\quad\quad} \text{ capas plásticas}$$

- Existiam 28 cartolinas e foram usadas 12.



$$28 - 12 = \underline{\quad\quad} \text{ cartolinas}$$