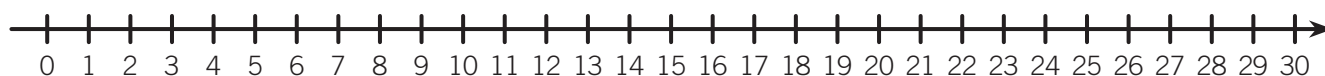


NOME: \_\_\_\_\_ DATA: \_\_\_\_\_

## ADIÇÃO NA RETA NUMÉRICA

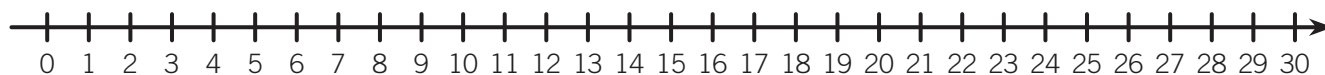
- 1 A Sofia está a ajudar a mãe a arrumar as compras do supermercado e está divertida a calcular as novas quantidades existentes no armário. Usa a reta para efetuares as adições.

- Existiam 3 pacotes de arroz e foram comprados mais 5.



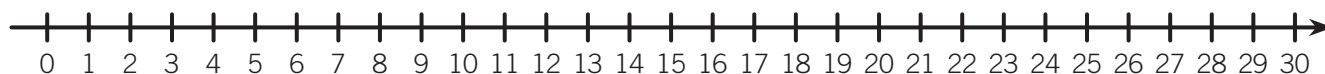
$$3 + 5 = \underline{\quad\quad} \text{ pacotes de arroz}$$

- Existiam 7 latas de salsichas e foram compradas mais 6 latas.



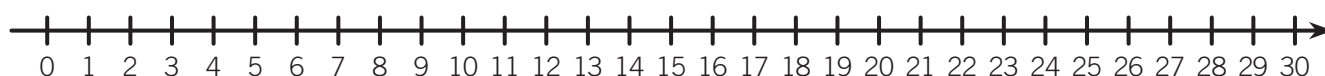
$$7 + 6 = \underline{\quad\quad} \text{ latas de salsichas}$$

- Existiam 12 garrafas de água e foram compradas mais 10.



$$12 + 10 = \underline{\quad\quad} \text{ garrafas de água}$$

- Existiam 14 litros de leite e foram comprados mais 12.



$$14 + 12 = \underline{\quad\quad} \text{ litros de leite}$$