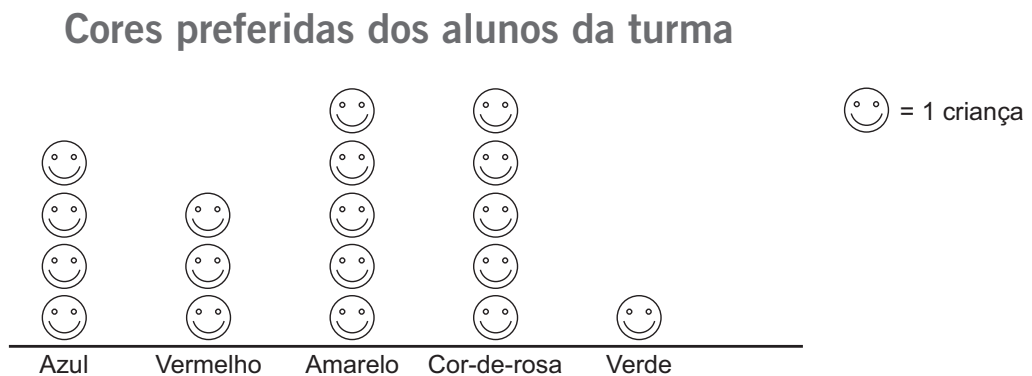


NOME: _____ DATA: _____





GRÁFICOS

- 1 Os alunos do 1.º ano construíram um pictograma com as cores preferidas dos alunos da turma.



- Quantas crianças preferem o azul? crianças.
- Quantas crianças preferem o amarelo? crianças.
- Quantas crianças tem a turma do 1.º ano? crianças.

- 2 Constrói um gráfico de pontos de acordo com os dados da tabela.

Estado do tempo	Número de dias
	12
	8
	4
	6

