









NOME: \_\_\_\_\_ DATA: \_\_\_\_\_

## COORDENADAS

1 O João dispôs quatro cartões com insetos numa tabela.

	1	2	3	4	5
A					
B					
C					
D					
E					

• Indica a posição de cada inseto, como no exemplo.

	(A, 2)		(B, ___)		(___, ___)		(___, ___)
---	--------	---	----------	---	------------	---	------------

• O João quer colocar a aranha na posição (B; 5).  
Desenha uma aranha nessa posição.



• Se o João deslocar o cartão da joaninha segundo as orientações seguintes, indica a posição que ocupará.

