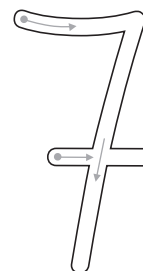



NOME: _____ DATA: _____

NÚMERO 7




sete

- 1 Completa o **7** passando por cima do tracejado. Desenha o número **7** e escreve a palavra **sete**.



sete

- 2 Pinta quantos faltam para teres **sete**. Coloca um **X** nos que sobram.



7

- 3 Observa a imagem e conta o número de elementos. Pinta a imagem.

