

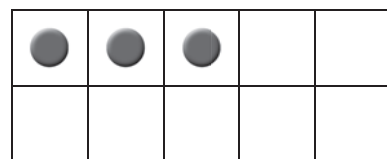
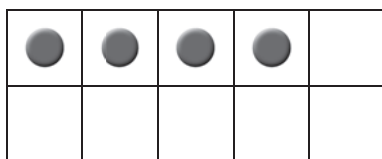
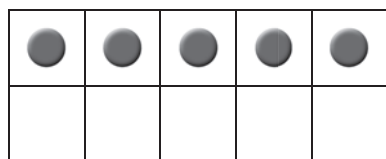
NOME: _____ DATA: _____

NÚMEROS NATURAIS DE 1 A 5

1 Completa.

Peça	Total de pintas	Uma pinta a menos	Uma pinta a mais

2 Escreve o número correspondente a cada moldura, como no exemplo.



5 cinco

3 Forma conjuntos e completa.

3 elementos



Formei _____ conjuntos.

5 elementos



Formei _____ conjuntos.