



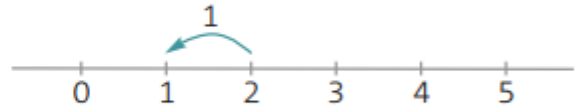
Nome: _____

Data: ___/___/___

1. Observa e completa.



$$2 - 1 = \boxed{1}$$




$$4 - 1 = \boxed{}$$



$$5 - 2 = \boxed{}$$



2. Desenha o que aconteceu e completa.

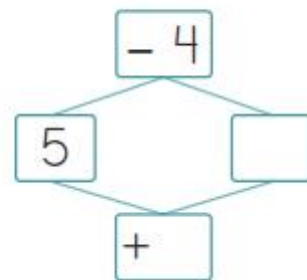


$$5 - \boxed{} = 1$$

3. Observa e completa.

$$5 - \boxed{} = 3$$

$$5 = \boxed{} + 3$$



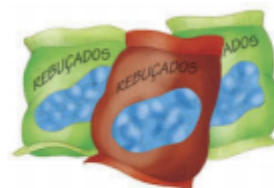
4. Havia 5 maçãs. O Rui comeu 3.
Quantas maçãs sobraram?



$$5 - 3 = \square$$


Resposta: Sobraram maçãs.

5. O António tinha 3 sacos de rebuçados.
Levou 1 saco para a escola e distribuiu os rebuçados pelos amigos.
Com quantos sacos de rebuçados ficou?



Resposta: O António ficou com sacos de rebuçados.

6. Estavam 4 gatos sentados a descansar.
3 foram brincar.
Quantos gatos continuaram sentados?



Resposta: Continuaram sentados gatos.

7. Completa.

