



Nome: \_\_\_\_\_

Data: \_\_\_/\_\_\_/\_\_\_

1. Completa.

$2 + \square = \square$

$\square + \square = \square$

2. Pinta as pétalas da mesma cor do centro das flores que representam a mesma quantidade.

3 + 0      1 + 0 + 1      2 + 2

1 + 1

2 + 2 + 1      3 + 1      3 + 2

1 + 2

2 + 1      2 + 0      1 + 2 + 1      4 + 1








2      3      4      5

● Liga cada pétala ao centro da sua flor.

3. Completa o quadro conforme o exemplo.

					
$2 + 2 + 1$	<input type="text"/>	<input type="text"/>	<input type="text"/>	<input type="text"/>	<input type="text"/>
$2 + 1 + 1$	<input type="text"/>	<input type="text"/>	<input type="text"/>	<input type="text"/>	<input type="text"/>
$1 + 1 + 1$	<input type="text"/>	<input type="text"/>	<input type="text"/>	3	<input type="text"/>
1	<input type="text"/>	<input type="text"/>	<input type="text"/>	<input type="text"/>	<input type="text"/>
$1 + 1$	<input type="text"/>	<input type="text"/>	<input type="text"/>	<input type="text"/>	<input type="text"/>

4. Completa.

						
5	=	$4 + \underline{\quad}$	=	$\underline{\quad} + 2$	=	$1 + \underline{\quad}$

$4 + \underline{\quad}$	<b>5</b>	$1 + \underline{\quad} + 1$
$3 + \underline{\quad}$		$2 + 1 + \underline{\quad}$
$2 + \underline{\quad}$		$1 + \underline{\quad}$
$\underline{\quad} + \underline{\quad} + 3$		

5. Estavam 2 pássaros num fio de um poste de electricidade. Chegaram mais 3. Quantos pássaros estão agora no fio?



○  =



Resposta: Agora estão  pássaros no fio.